


Semaine 3

----- LUNDI -----


Chapitre 2 : L'ADDITION

1 - Petites histoires de nombres

Exemple :



Il y a 6 fleurs roses



Il y a 3 fleurs bleues

Il y a 9 fleurs en tout

$$6 \text{ FLEURS} + 3 \text{ FLEURS} = 9 \text{ FLEURS}$$

A) Règle à coller et à apprendre sur le petit carnet bleu :



Lorsque l'on AJOUTE,
que l'on REUNIT,
que l'on a EN PLUS,
on fait une ADDITION



Exemple : 1 bille + 2 billes = 3 billes
est le signe de l'addition. Il sert à réunir.



→ Exercices sur le fichier A de l'enfant :
Exercices 20 et 21 pages 12 à 14.

---- MARDI ----

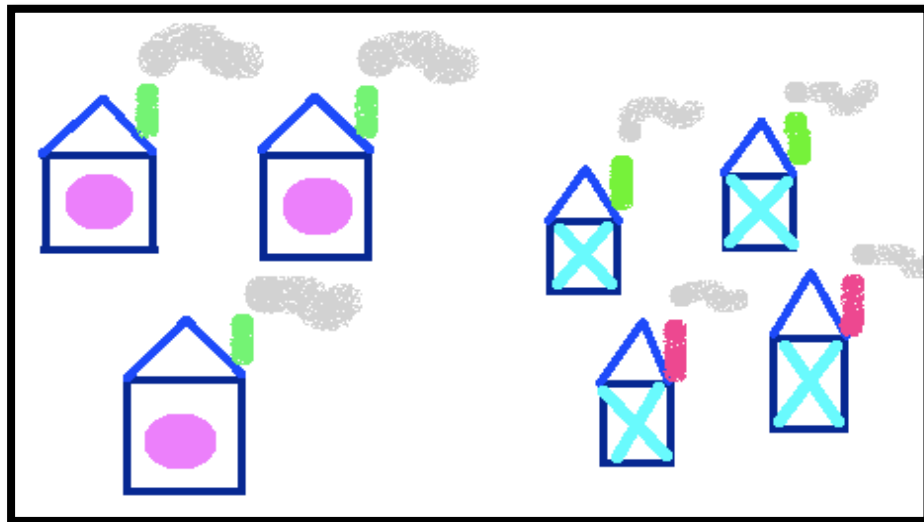


→ Exercices sur le fichier A de l'enfant :
Exercice 23 page 16

B) Pour que l'enfant comprenne bien l'addition avec :

→ l'idée de réunir : L'enfant invente une histoire sur une image donnée et écrit l'addition choisie en fonction des éléments identiques qu'il veut assembler.

Exemple :



A travers ce dessin, plusieurs combinaisons sont possibles. Ici nous pouvons additionner les maisons aux **cheminées vertes** avec les maisons aux **cheminées roses**.

$$5 \text{ maisons} + 2 \text{ maisons} = 7 \text{ maisons}$$



→ Exercice sur le cahier de l'enfant :

L'enfant, avec l'image donnée dans l'exemple ci-dessus, peut trouver les autres additions possibles.




→ Exercices sur le fichier A de l'enfant :

Exercices 22 pages 14 et 15, exercice 24 page 17.

C) Pour que l'enfant comprenne bien l'addition avec :

→ l'idée d'ajouter : L'enfant, en observant bien une image dans lequel l'idée d'ajouter est explicite, doit être capable d'écrire ou de compléter une addition.

Exemple :



Sur cette image : il y a 3 œufs de Pâques. On en ajoute 1 de plus :

$$3 \text{ œufs} + 1 \text{ œuf} = \underline{4} \text{ œufs en tout.}$$




→ Exercices sur le fichier A de l'enfant :

Exercice 25 page 18.



→ Exercice

Consigne 1 : L'enfant écrit l'addition qu'il veut en fonction de l'image :



Consigne 2 : L'enfant fait un dessin en fonction des deux additions données et écrit le résultat :

1^{er} dessin : 6 oiseaux + 4 oiseaux = _____

2^{ème} dessin : 5 bonbons + 3 bonbons = _____



Exercices 6 et 7 à la fin de ce livret : devoir n°1 à envoyer à la correction